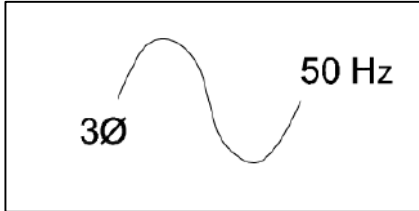


1. Read the below Electrical Signs or Symbols.

नीचे दिए गए विद्युत संकेतों या प्रतीकों को पढ़ें।

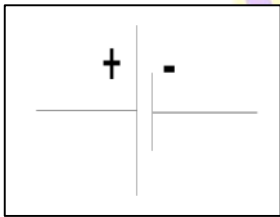


- a) A.C. ए.सी.
- b) D.C. डी.सी.
- c) Single Phase A.C. 50 Hz सिंगल फेज एसी 50 हर्ट्ज
- d) Three Phase A.C., 50 Hz तीन चरण एसी, 50 हर्ट्ज

Answer - d

2. Read the below Electrical Signs or Symbols.

नीचे दिए गए विद्युत संकेतों या प्रतीकों को पढ़ें।

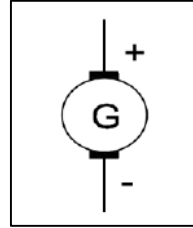


- a) Earthing अर्थिंग
- b) Battery बैटरी
- c) Cell सेल
- d) Positive / Negative घनात्मक / ऋणात्मक

Answer - c

3. Read the below Electrical Signs or Symbols.

नीचे दिए गए विद्युत संकेतों या प्रतीकों को पढ़ें।

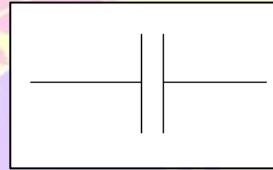


- a) Galvanometer गैल्वेनोमीटर
- b) Generator जेनरेटर
- c) DC motor डीसी मोटर
- d) Alternator अल्टरनेटर

Answer - b

4. Read the below Electrical Signs or Symbols.

नीचे दिए गए विद्युत संकेतों या प्रतीकों को पढ़ें।

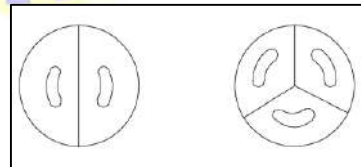


- a) Earthing अर्थिंग
- b) Capacitor अर्थिंग
- c) Battery बैटरी
- d) Cell सेल

Answer - b

5. Read the below Electrical Signs or Symbols.

नीचे दिए गए विद्युत संकेतों या प्रतीकों को पढ़ें।



- a) Socket 2 pin, 3 pin सॉकेट 2 पिन, 3 पिन
- b) Ceiling Rose 2-pin, 3-pin सीलिंग रोज 2-पिन, 3-पिन

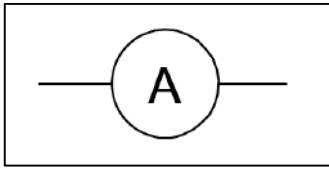
c) Two-way switch दो-तरफा स्विच

d) Lamp लैंप

Answer - b

6. Read the below Electrical Signs or Symbols.

नीचे दिए गए विद्युत संकेतों या प्रतीकों को पढ़ें।



a) Alternator अल्टरनेटर

b) Lamp लैंप

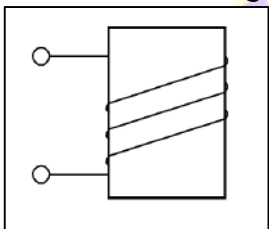
c) Ammeter एमीटर

d) Regulator नियामक

Answer - c

7. Read the below Electrical Signs or Symbols.

नीचे दिए गए विद्युत संकेतों या प्रतीकों को पढ़ें।



a) Electric bell बिजली की घंटी

b) Choke चोक

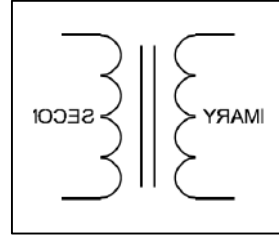
c) Transformer ट्रांसफार्मर

d) Electromagnet विद्युत चुंबक

Answer - d

8. Read the below Electrical Signs or Symbols.

नीचे दिए गए विद्युत संकेतों या प्रतीकों को पढ़ें।



a) Auto transformer ऑटो ट्रांसफार्मर

b) Choke चोक

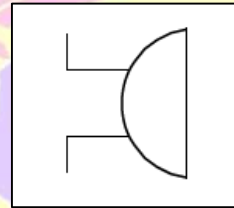
c) Transformer ट्रांसफार्मर

d) Electromagnet विद्युत चुंबक

Answer - c

9. Read the below Electrical Signs or Symbols.

नीचे दिए गए विद्युत संकेतों या प्रतीकों को पढ़ें।



a) Buzzer बजर

b) Loudspeaker लाउडस्पीकर

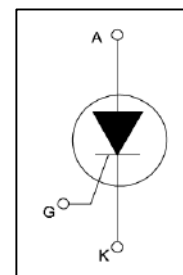
c) Electric Bell इलेक्ट्रिक बेल

d) Microphone माइक्रोफोन

Answer - a

10. Read the below Electrical Signs or Symbols.

नीचे दिए गए विद्युत संकेतों या प्रतीकों को पढ़ें।



a) UJT

b) BJT

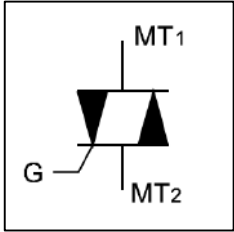
c) SCR

d) FET

Answer - c

11. Read the below Electrical Signs or Symbols.

नीचे दिए गए विद्युत संकेतों या प्रतीकों को पढ़ें।

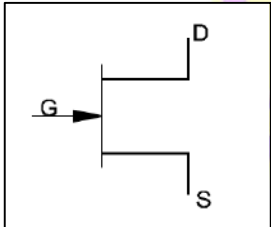


- a) DIAC
- b) SCR
- c) TRIAC
- d) FET

Answer - c

12. Read the below Electrical Signs or Symbols.

नीचे दिए गए विद्युत संकेतों या प्रतीकों को पढ़ें।

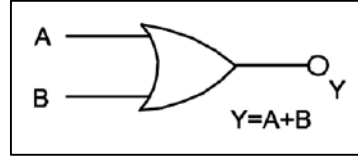


- a) F.E.T. P-Channel एफ.ई.टी. पी-चैनल
- b) F.E.T. N-Channel एफ.ई.टी. n- चैनल
- c) NPN Transistor एनपीएन ट्रांजिस्टर
- d) PNP transistor पीएनपी ट्रांजिस्टर

Answer - b

13. Read the below Electrical Signs or Symbols.

नीचे दिए गए विद्युत संकेतों या प्रतीकों को पढ़ें।

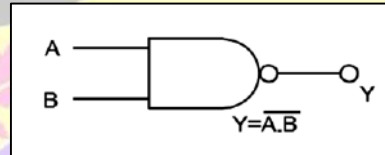


- a) NOT gate
- b) OR gate
- c) AND gate
- d) NAND gate

Answer - b

14. Read the below Electrical Signs or Symbols.

नीचे दिए गए विद्युत संकेतों या प्रतीकों को पढ़ें।

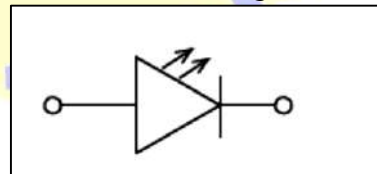


- a) NOT gate
- b) OR gate
- c) AND gate
- d) NAND gate

Answer - d

15. Read the below Electrical Signs or Symbols.

नीचे दिए गए विद्युत संकेतों या प्रतीकों को पढ़ें।



- a) Diode
- b) Photo diode
- c) Light emitting diode (LED)
- d) Amplifier

Answer - c