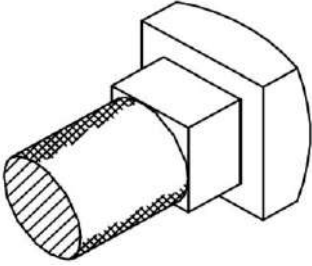


1. Identify the given figure.

दी गई आकृति को पहचानिए।

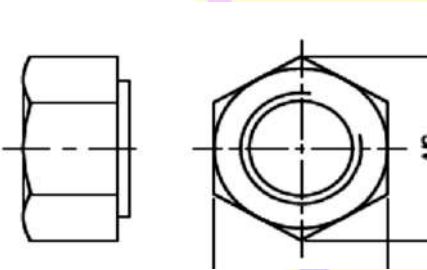


- a) Square headed bolt स्क्वेयर हेड बोल्ट
- b) Hexagonal nut हेक्सागोनल बोल्ट
- c) Square nut स्क्वेयर बोल्ट
- d) Hexagonal headed bolt हेक्सागोनल हेडेड बोल्ट

Answer - a

2. Identify the given figure.

दी गई आकृति को पहचानिए।

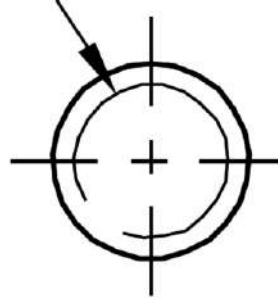


- a) Square headed bolt स्क्वेयर हेड बोल्ट
- b) Hexagonal nut हेक्सागोनल बोल्ट
- c) Square nut स्क्वेयर बोल्ट
- d) Hexagonal headed bolt हेक्सागोनल हेडेड बोल्ट

Answer - b

3. identify Convention of given screw thread.

दिए गए स्क्रू थ्रेड के कन्वेंशन की पहचान करें?

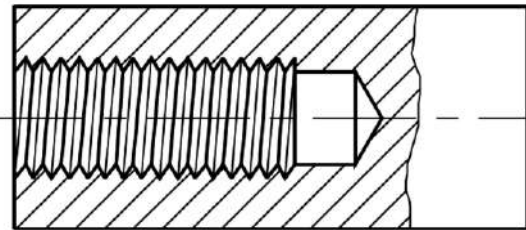


- a) Screw thread पेंच थ्रेड
- b) Internal Screw thread आंतरिक पेंच थ्रेड
- c) External Screw thread बाहरी पेंच थ्रेड
- d) Bolt thread बोल्ट थ्रेड

Answer - c

4. Identify the given screw thread.

दिए गए स्क्रू थ्रेड के पहचान करें?

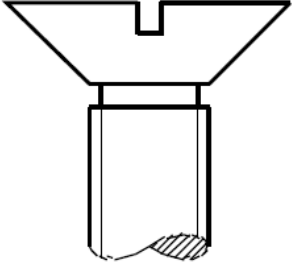


- a) Screw thread पेंच थ्रेड
- b) Internal Screw thread आंतरिक पेंच थ्रेड
- c) External Screw thread बाहरी पेंच थ्रेड
- d) Bolt thread बोल्ट थ्रेड

Answer - b

5. Identify the type of screw on Screw head.

स्कू हेड पर स्कू के प्रकार की पहचान करें।

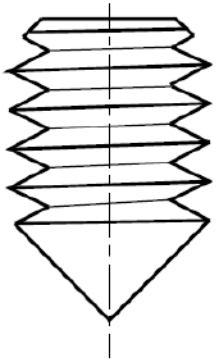


- a) Round head गोल सिर
- b) Oval head अंडाकार सिर
- c) Flat Head चपटा हेड
- d) Pan Head पैन हेड

Answer - c

6. Identify the given figure.

दी गई आकृति को पहचानिए।

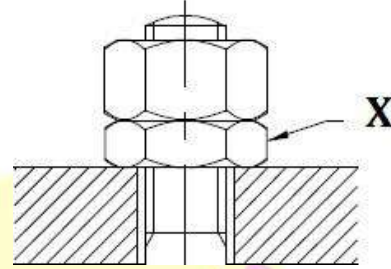


- a) Flat point set screw फ्लैट प्वाइंट सेट स्कू
- b) Oval point set screw अंडाकार बिंदु सेट पेंच
- c) Cone point set screw शंकु बिंदु सेट पेंच
- d) The half dog point set screws हाफ डॉग पॉइंट सेट स्कू

Answer - c

7. In given diagram, what is the name X Part.

दिए गए आरेख में, X भाग का नाम क्या है।

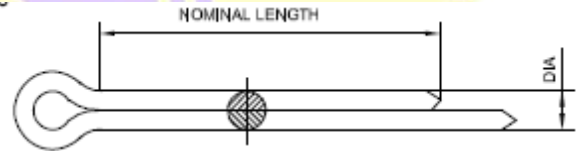


- a) Lock-nut ताला- नट
- b) Sawn nut (Wiles nut) सावन नट
- c) Castle nuts कैसल नट
- d) Self-locking nut (Simmonds nut) सेल्फ-लॉकिंग नट (सीमंड्स नट)

Answer - a

8. Identify the given figure.

दी गई आकृति को पहचानिए।

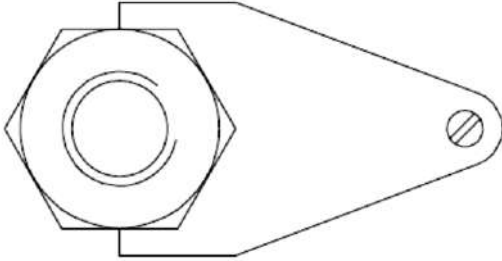


- a) Locking slot लॉकिंग स्लॉट
- b) Split pin स्प्लिट पिन
- c) Washers वाशर
- d) Locking plate लॉकिंग प्लेट

Answer - b

9. Identify the given figure.

दी गई आकृति को पहचानिए।

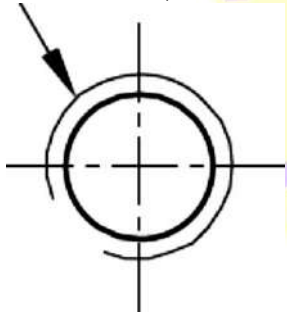


- a) Locking slot लॉकिंग स्लॉट
- b) Split pin स्प्लिट पिन
- c) Washers वाशर
- d) Locking plate लॉकिंग प्लेट

Answer - d

10. identify Convention of given screw thread.

दिए गए स्क्रू थ्रेड के कन्वेंशन की पहचान करें?

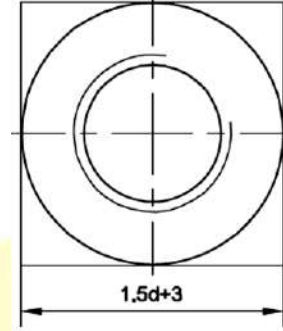


- a) Screw thread पेंच थ्रेड
- b) Internal Screw thread आंतरिक पेंच थ्रेड
- c) External Screw thread बाहरी पेंच थ्रेड
- d) Bolt thread बोल्ट थ्रेड

Answer - b

11. Identify the given figure.

दी गई आकृति को पहचानिए।

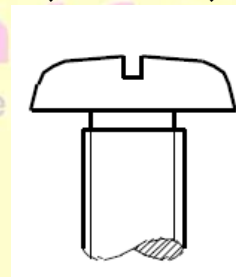


- a) Square headed bolt स्क्वेयर हेड बोल्ट
- b) Hexagonal nut हेक्सागोनल बोल्ट
- c) Square nut स्क्वेयर बोल्ट
- d) Hexagonal headed bolt हेक्सागोनल हेडेड बोल्ट

Answer - c

12. Identify the type of screw on Screw head.

स्क्रू हेड पर स्क्रू के प्रकार की पहचान करें।

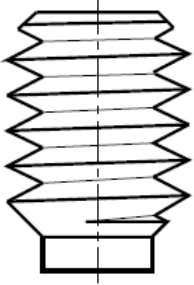


- a) Round head गोल सिर
- b) Oval head अंडाकार सिर
- c) Flat Head चपटा हेड
- d) Pan Head पैन हेड

Answer - d

13. Identify the given figure.

दी गई आकृति को पहचानिए।

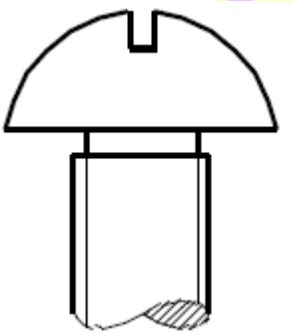


- a) Flat point set screw फ्लैट प्वाइंट सेट स्क्रू
- b) Oval point set screw अंडाकार बिंदु सेट पेंच
- c) Cone point set screw शंकु बिंदु सेट पेंच
- d) The half dog point set screws हाफ डॉग पॉइंट सेट स्क्रू

Answer - d

14. Identify the type of screw on Screw head.

स्कू हेड पर स्कू के प्रकार की पहचान करें।

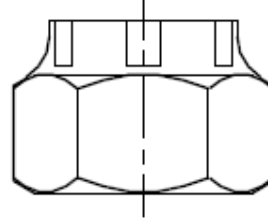


- a) Round head गोल सिर
- b) Oval head अंडाकार सिर
- c) Flat Head चपटा हेड
- d) Pan Head पैन हेड

Answer - a

15. Identify the given figure.

दी गई आकृति को पहचानिए।




- a) Lock-nut ताला- नट
- b) Sawn nut (Wiles nut) सावन नट
- c) Castle nuts कैसल नट
- d) Self-locking nut (Simmonds nut) सेल्फ-लॉकिंग नट (सीमंड्स नट)

Answer - c

16. Identify the given figure.

दी गई आकृति को पहचानिए।

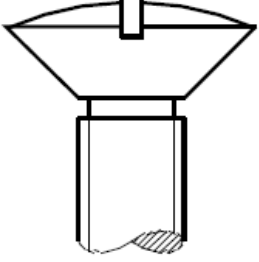


- a) Flat point set screw फ्लैट प्वाइंट सेट स्क्रू
- b) Oval point set screw अंडाकार बिंदु सेट पेंच
- c) Cone point set screw शंकु बिंदु सेट पेंच
- d) The half dog point set screws हाफ डॉग पॉइंट सेट स्क्रू

Answer - b

17. Identify the type of screw on Screw head.

स्कू हेड पर स्कू के प्रकार की पहचान करें।




- a) Round head गोल सिर
- b) Oval head अंडाकार सिर
- c) Flat Head चपटा हेड
- d) Pan Head पैन हेड

Answer - b

18. Identify the given figure.

दी गई आकृति को पहचानिए।



- a) Flat point set screw फ्लैट प्वाइंट सेट स्कू
- b) Oval point set screw अंडाकार बिंदु सेट पेंच
- c) Cone point set screw शंकु बिंदु सेट पेंच
- d) The half dog point set screws हाफ डॉग पॉइंट सेट स्कू

Answer - a